

# Klassenarbeit - Mathetests im 1. Halbjahr

Plusaufgaben; Zehnerstreifen; Richtung (rechts und links); Tauschaufgaben; Rechenmauer; Zahlenhaus

## Aufgabe 1

Schreibe die Plusaufgabe.



\_\_\_\_\_



\_\_\_\_\_



\_\_\_\_\_



\_\_\_\_\_



\_\_\_\_\_



\_\_\_\_\_

\_\_\_/6P

## Aufgabe 2

Schreibe zu jedem Bild die Plusaufgabe.



\_\_\_\_\_



\_\_\_\_\_



\_\_\_\_\_

\_\_\_\_\_



\_\_\_\_\_






\_\_\_\_\_

\_\_\_/6P

### Aufgabe 3

**Links oder rechts? Male die richtige Hand aus.**




\_\_\_/4P

Aufgabe 4

**Schreibe die Tauschaufgabe darunter und rechne.**

$$2 + 7 = \square$$


$$\square + \square = \square$$

$$1 + 8 = \square$$

$$\square + \square = \square$$

$$2 + 6 = \square$$

$$\square + \square = \square$$

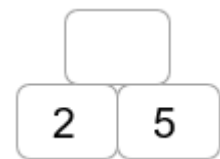
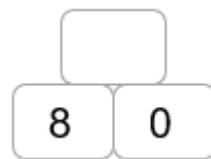
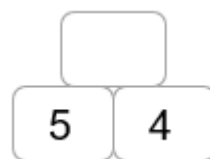
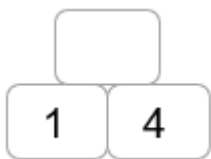
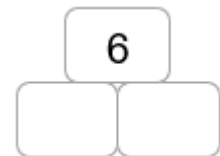
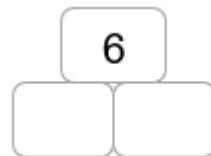
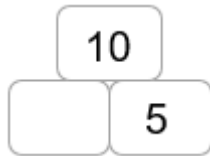
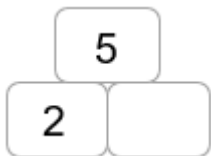
$$3 + 7 = \square$$

$$\square + \square = \square$$

\_\_\_/4P

Aufgabe 5

**Ergänze die Rechenmauern.**



\_\_\_/8P

Aufgabe 6

**Male ein Bild zur Aufgabe.**

$$6 + 3 = \square$$



\_\_\_/3P

Aufgabe 7

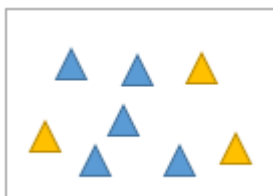
**Ergänze die Zahnhäuser.**



\_\_\_/19P


Aufgabe 8

**Schreibe die Rechenaufgabe und die Tauschaufgabe und rechne.**



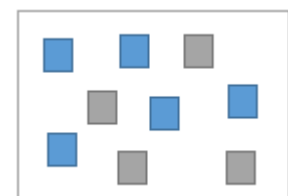
$$\square + \square = \square$$

$$\square + \square = \square$$



$$\square + \square = \square$$

$$\square + \square = \square$$



$$\square + \square = \square$$

$$\square + \square = \square$$

\_\_\_/6P

## Aufgabe 9

**Berechne.**

$5 + 3 = \underline{\hspace{2cm}}$

$5 + 1 = \underline{\hspace{2cm}}$

$5 + 4 = \underline{\hspace{2cm}}$

$2 + 3 = \underline{\hspace{2cm}}$

$4 + 3 = \underline{\hspace{2cm}}$

$6 + 3 = \underline{\hspace{2cm}}$

$4 + 6 = \underline{\hspace{2cm}}$

$2 + 7 = \underline{\hspace{2cm}}$

$3 + 3 = \underline{\hspace{2cm}}$

$5 + 5 = \underline{\hspace{2cm}}$

\_\_\_ /5P

# Lösung Klassenarbeit - Mathetests im 1. Halbjahr

Plusaufgaben; Zehnerstreifen; Richtung (rechts und links); Tauschaufgaben;  
Rechenmauer; Zahlenhaus

## Aufgabe 1

Schreibe die Plusaufgabe.



$$5 + 3 = 7$$



$$6 + 1 = 7$$



$$1 + 4 = 5$$



$$3 + 6 = 9$$



$$6 + 4 = 10$$



$$2 + 4 = 6$$

\_\_\_/6P

## Aufgabe 2

Schreibe zu jedem Bild die Plusaufgabe.



$$4 + 4 = 8$$



$$1 + 3 = 4$$





$4 + 3 = 7$



$2 + 4 = 6$



$0 + 4 = 4$







$2 + 3 = 5$

\_\_\_/6P

Aufgabe 3

Links oder rechts? Male die richtige Hand aus.



\_\_\_/4P

Aufgabe 4

**Schreibe die Tauschaufgabe darunter und rechne.**

$$2 + 7 = 9$$

$$1 + 8 = 9$$

$$7 + 2 = 9$$

$$8 + 1 = 9$$

$$2 + 6 = 8$$

$$3 + 7 = 10$$

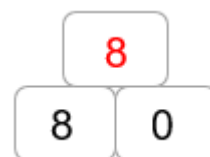
$$6 + 2 = 8$$

$$7 + 3 = 10$$

\_\_\_/4P

Aufgabe 5

**Ergänze die Rechenmauern.**




\_\_\_/8P



Aufgabe 6

**Male ein Bild zur Aufgabe.**

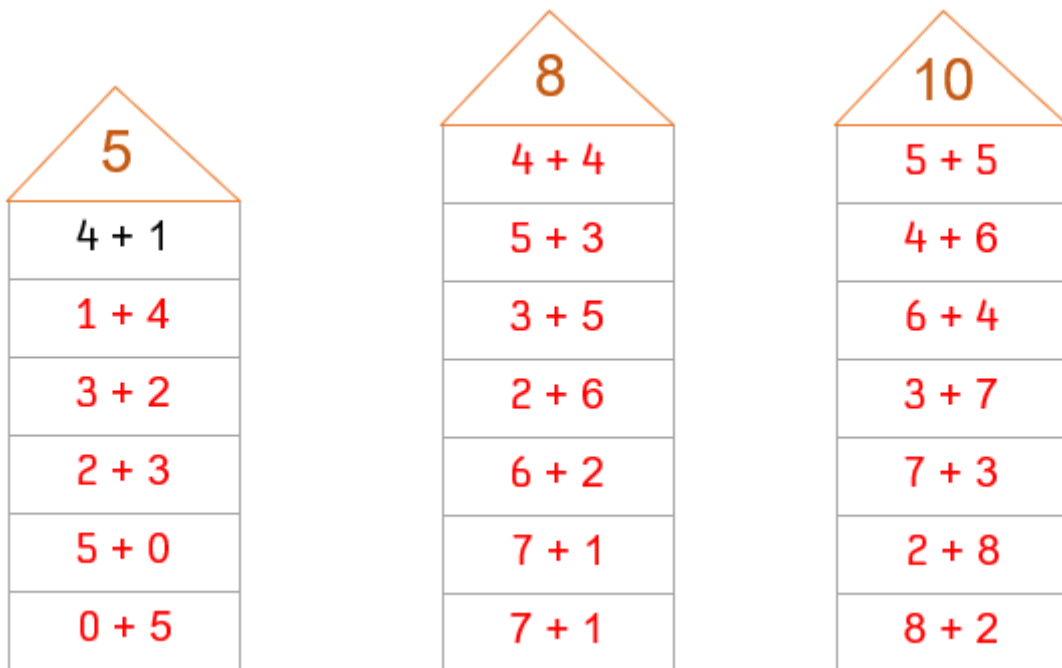
$$6 + 3 = 9$$



\_\_\_/3P

Aufgabe 7

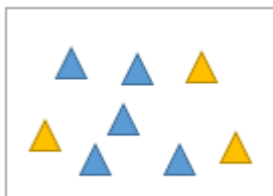
**Ergänze die Zahlenhäuser.**



\_\_\_/19P


Aufgabe 8

**Schreibe die Rechenaufgabe und die Tauschaufgabe und rechne.**



$$3 + 5 = 8$$

$$5 + 3 = 8$$



$$8 + 2 = 10$$

$$2 + 8 = 10$$



$$5 + 4 = 9$$

$$4 + 5 = 9$$

\_\_\_/6P

## Aufgabe 9

**Berechne.**

$5 + 3 = 8$

$5 + 1 = 6$

$5 + 4 = 9$

$2 + 3 = 5$

$4 + 3 = 7$

$6 + 3 = 9$

$4 + 6 = 10$

$2 + 7 = 9$

$3 + 3 = 6$

$5 + 5 = 10$

\_\_\_\_/5P

*Viel Glück!!*

Gesamt: \_\_\_\_/61P

Note	1	1-	1-2	2+	2	2-	2-3	3+	3	3-	3-4	4+	4	4-	4-5	5+	5	5-	5-6	6+
Punkte	57	55	53	51	48	46	44	41	39	36	33	30	27	24	21	18	15	12	10	8