

Klassenarbeit - Raum und Zeit

Kalender; Uhr; Jahreszeiten; Datum

Aufgabe 1

**Ordne die Wochentage in der richtigen Reihenfolge.
Setze die Zahlen ein.**

- MITTWOCH FREITAG MONTAG
- DONNERSTAG SONNTAG DIENSTAG
- SAMSTAG

___ /7P

Aufgabe 2

Welcher der beiden Zeiger einer Uhr dreht sich schneller?



___ /1P

Aufgabe 3

An welchen Tagen gehst du nicht in die Schule?

___ /2P

Aufgabe 4


Schreibe die Monate des ersten Halbjahres auf!

___ /6P

Aufgabe 5

Lies die beiden Uhrzeiten ab und schreibe sie auf!





___/4P

Aufgabe 6

Zeichne die Zeiger richtig ein!

halb neun	viertel nach eins	23:30

viertel sechs	viertel vor sieben	dreiviertel vier

___/6P

Aufgabe 7

Vervollständige die Tabelle.



Mit welcher Jahreszeit beginnt das Jahr	
In welche Jahreszeit fällt Ostern?	
In welche Jahreszeit fällt Weihnachten?	
Zu welcher Jahreszeit gehört der August?	
Zu welcher Jahreszeit gehört der Oktober?	

___/5P

Aufgabe 8

Schreibe auf, wie viele Minuten seit 8.00 Uhr vergangen sind.

_____ min	_____ min	_____ min	_____ min

___/4P

Aufgabe 9

Tom sagt: „Ich habe am 30.2. Geburtstag.“
Was meinst du dazu?



___/1P

Aufgabe 10

Fülle das richtige Wort ein.

Eine Woche hat _____ Tage.

___/1P

Aufgabe 11

Verbinde mit der passenden Digitalzeit!



- a) 1. Pause in der Schule 12:30 Uhr
- b) Ich mache Hausaufgaben 9:30 Uhr
- c) Ich schlafe 7:00 Uhr
- d) Wir essen zu Mittag. 22:15 Uhr
- e) Ich muss morgens aufstehen 13:45 Uhr

___/5P

Aufgabe 12

Wie lange benötigt die Erde um einmal die Sonne zu umrunden?



___/1P

Aufgabe 13

Schreibe das Datum kürzer.

28. März 2006	
7. Juli 2005	
31. Januar 2014	
28. Februar 2006	

___/4P

Lösung Klassenarbeit - Raum und Zeit

Kalender; Uhr; Jahreszeiten; Datum

Aufgabe 1

**Ordne die Wochentage in der richtigen Reihenfolge.
Setze die Zahlen ein.**

③ MITTWOCH

⑤ FREITAG

① MONTAG

④ DONNERSTAG

⑦ SONNTAG

② DIENSTAG

⑥ SAMSTAG

___/7P

Aufgabe 2

Welcher der beiden Zeiger einer Uhr dreht sich schneller?



Der lange Zeiger (Minutenzeiger)

___/1P

Aufgabe 3

An welchen Tagen gehst du nicht in die Schule?

Samstag, Sonntag

___/2P

Aufgabe 4

Schreibe die Monate des ersten Halbjahres auf!

Januar, Februar, März, April, Mai, Juni

___/6P


Aufgabe 5

Lies die beiden Uhrzeiten ab und schreibe sie auf!



7.40 Uhr

19.40 Uhr



5.00 Uhr

17.00 Uhr

___/4P

Aufgabe 6

Zeichne die Zeiger richtig ein!

halb neun	viertel nach eins	23:30

viertel sechs	viertel vor sieben	dreiviertel vier

___/6P

Aufgabe 7

Vervollständige die Tabelle.



Mit welcher Jahreszeit beginnt das Jahr	Winter
In welche Jahreszeit fällt Ostern?	Frühling
In welche Jahreszeit fällt Weihnachten?	Winter
Zu welcher Jahreszeit gehört der August?	Sommer
Zu welcher Jahreszeit gehört der Oktober?	Herbst

___/5P

Aufgabe 8

Schreibe auf, wie viele Minuten seit 8.00 Uhr vergangen sind.

Analog clock showing 8:10. The hour hand is between 8 and 9, and the minute hand is at 2.	Analog clock showing 8:25. The hour hand is between 8 and 9, and the minute hand is at 5.	Analog clock showing 8:40. The hour hand is between 8 and 9, and the minute hand is at 8.	Analog clock showing 8:55. The hour hand is between 8 and 9, and the minute hand is at 11.
10 min	25 min	40 min	55 min

___/4P

Aufgabe 9

Tom sagt: „Ich habe am 30.2. Geburtstag.“
Was meinst du dazu?



Das kann nicht stimmen, es gibt den 30. Februar nicht, der Februar hat nur 28 Tage.

___/1P

Aufgabe 10

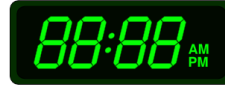
Fülle das richtige Wort ein.

Eine Woche hat **sieben** Tage.

___/1P

Aufgabe 11

Verbinde mit der passenden Digitalzeit!



- a) 1. Pause in der Schule 12:30 Uhr
- b) Ich mache Hausaufgaben 9:30 Uhr
- c) Ich schlafe 7:00 Uhr
- d) Wir essen zu Mittag. 22:15 Uhr
- e) Ich muss morgens aufstehen 13:45 Uhr

___/5P

Aufgabe 12

Wie lange benötigt die Erde um einmal die Sonne zu umrunden?



365 Tag benötigt die Erde um die Sonne zu umrunden.

___/1P

Aufgabe 13

Schreibe das Datum kürzer.

28. März 2006	28.03.2006
7. Juli 2005	7.07.2005
31. Januar 2014	31.01.2014
28. Februar 2006	28.02.2006

___/4P

Viel Erfolg!!

Gesamt: ___/47P

Note	1	1-	1-2	2+	2	2-	2-3	3+	3	3-	3-4	4+	4	4-	4-5	5+	5	5-	5-6	6+
Punkte	42	40	38	37	35	33	31	29	28	25	23	21	18	17	15	13	11	9	8	6