

Klassenarbeit - Mein Bundesland

Nordrhein-Westfalen

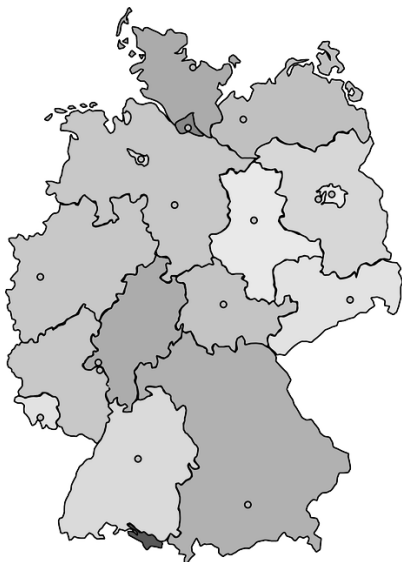
Aufgabe 1

Nenne vier Bergketten Ostwestfalens!

_____ /4P

Aufgabe 2

Male NRW in der Karte an!



_____ /1P

Aufgabe 3

Welches ist die Landeshauptstadt von NRW?

_____ /1P

Aufgabe 4

Nenne 5 weitere Städte, die in NRW liegen!

_____ /5P

Aufgabe 5

Welche 3 Bundesländer grenzen direkt an NRW?

_____ /3P

Aufgabe 6

Aus welchen zwei großen Landesteilen setzt sich unser Bundesland zusammen?

___/2P

Aufgabe 7

Male das Wappen von NRW richtig an!



___/1P

Aufgabe 8

Nenne drei bekannte Ausflugsziele in Ostwestfalens!

___/3P

Aufgabe 9

Welches ist die größte Stadt Ostwestfalens?

___/1P

Aufgabe 10

Nenne einen großen Fluss in NRW, der auch noch durch andere Bundesländer fließt!

___/1P

Aufgabe 11

Ergänze den Satz:

Bad Salzuflen, Bad Oeynhausen, Bad Meinberg sind _____.

___/1P

Aufgabe 12

**Bei Detmold gibt es fantastisch geformte Felsen.
Wie heißen Sie?**

___/1P



Aufgabe 13

Von welchen ostwestfälischen Städten sind diese Autokennzeichen?

HF _____ MI _____ BI _____

___/3P

Aufgabe 14

Bei welcher Stadt liegt eines der größten Freilichtmuseen?

___/1P

Aufgabe 15

Bei welcher Stadt wird der Mittellandkanal über die Weser geführt?

___/1P

Aufgabe 16

Wie viele Großlandschaften gibt es in NRW?

Nenne vier davon!

___/5P

Aufgabe 17

Wie heißt der Fluss, der viele Kilometer die Grenze zwischen NRW und Niedersachsen bildet?

___/1P

Lösung Klassenarbeit - Mein Bundesland

Nordrhein-Westfalen

Aufgabe 1

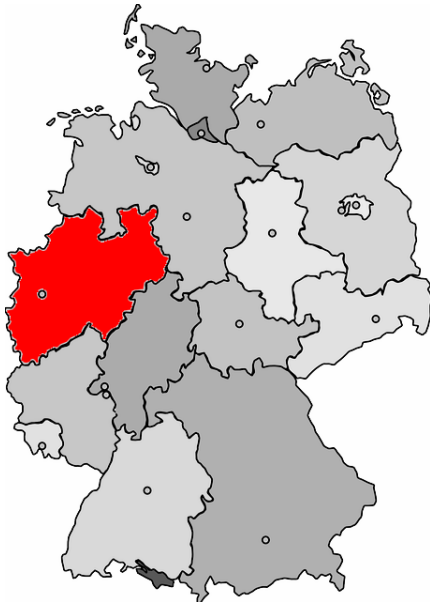
Nenne vier Bergketten Ostwestfalens!

Eggegebirge, Weserbergland, Wiehengebirge, Teutoburger Wald

___/4P

Aufgabe 2

Male NRW in der Karte an!



___/1P

Aufgabe 3

Welches ist die Landeshauptstadt von NRW?

Düsseldorf

___/1P

Aufgabe 4

Nenne 5 weitere Städte, die in NRW liegen!

Essen, Dortmund, Bielefeld, Köln, Bochum, Münster

___/5P

Aufgabe 5

Welche 3 Bundesländer grenzen direkt an NRW?

Niedersachsen, Hessen und Rheinland-Pfalz

___/3P

Aufgabe 6


Aus welchen zwei großen Landesteilen setzt sich unser Bundesland zusammen?

Nordrhein und Westfalen

___/2P

Aufgabe 7

Male das Wappen von NRW richtig an!



___/1P

Aufgabe 8

Nenne drei bekannte Ausflugsziele in Ostwestfalens!

das Hermannsdenkmal, die Externsteine, das Freilichtmuseum

___/3P

Aufgabe 9

Welches ist die größte Stadt Ostwestfalens?

Bielefeld

___/1P

Aufgabe 10

Nenne einen großen Fluss in NRW, der auch noch durch andere Bundesländer fließt!

Der Rhein

___/1P

Aufgabe 11

Ergänze den Satz:

Bad Salzuflen, Bad Oeynhausen, Bad Meinberg sind **Kurorte**.

___/1P

Aufgabe 12

Bei Detmold gibt es fantastisch geformte Felsen.
Wie heißen Sie?

Externsteine

___ /1P



Aufgabe 13

Von welchen ostwestfälischen Städten sind diese Autokennzeichen?

HF **Herford**

MI **Minden**

BI **Bielefeld**

___ /3P

Aufgabe 14

Bei welcher Stadt liegt eines der größten Freilichtmuseen?

bei Detmold

___ /1P

Aufgabe 15

Bei welcher Stadt wird der Mittellandkanal über die Weser geführt?

in Minden

___ /1P

Aufgabe 16

Wie viele Großlandschaften gibt es in NRW?

Es gibt 8 Großlandschaften.

Nenne vier davon!

Eifel, Kölner Bucht, Münsterland, Ruhrgebiet

___ /5P

Aufgabe 17

Wie heißt der Fluss, der viele Kilometer die Grenze zwischen NRW und Niedersachsen bildet?

die Weser

___ /1P

Viel Glück!!

Gesamt: ___ /35P

Note	1	1-	1-2	2+	2	2-	2-3	3+	3	3-	3-4	4+	4	4-	4-5	5+	5	5-	5-6	6+
Punkte	31	30	28	27	26	24	23	22	21	19	17	15	14	12	11	10	8	7	6	4